



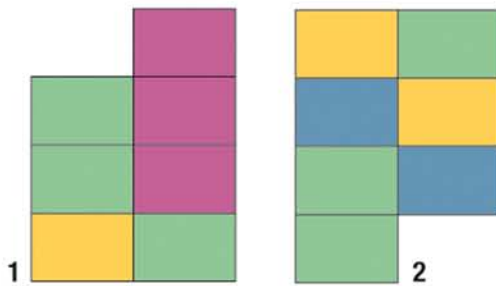


Puzzle

Trainieren Sie Ihre räumliche Vorstellungskraft. Welche der drei Puzzleteile 1-6 ergeben zusammengesetzt die Abbildung A? Die Stücke dürfen weder gedreht noch übereinander gelegt werden.



A



Lösung

